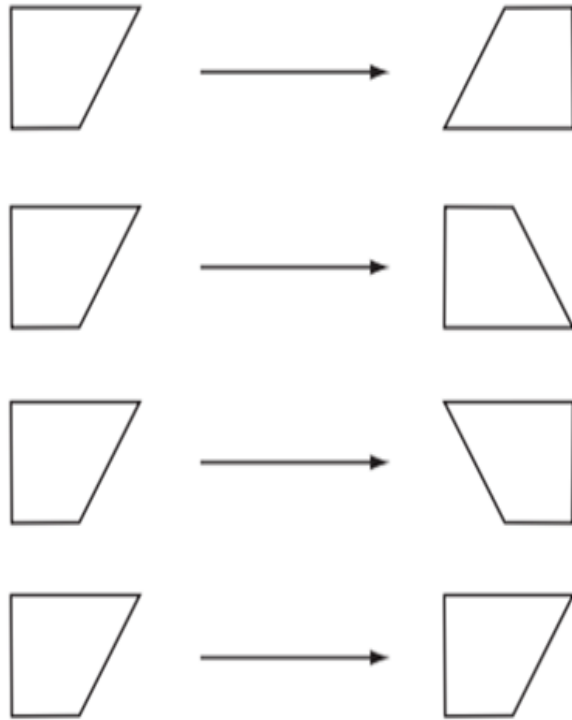


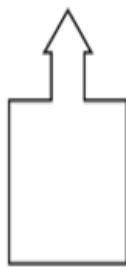
### משימת סימטריה

1. הקיפו את זוג הצורות המציג רק הזזה




2. בחנו לאילו מהצורות הבאות יש גם קו סימטריה אנכי וגם קו סימטריה אופקי והקיפו את ההיגד הנכון:

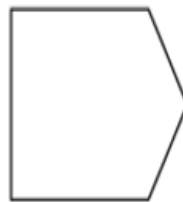
- א. רק לצורה 1    ב. לצורות 2 ו 4    ג. רק לצורות 1 ו 3.    ד. לצורות 1, 3, 4



4



3



2



1