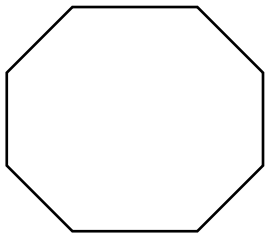



משימת זוויות וסימטריה

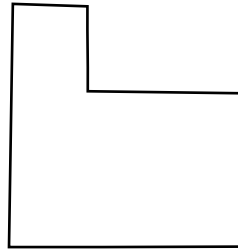
1. לאיזו צורה אין זווית ישרה? הקיפו את התשובה הנכונה.



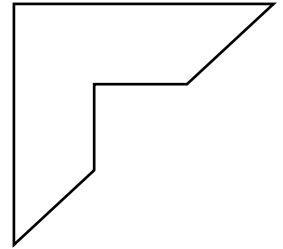
1



2

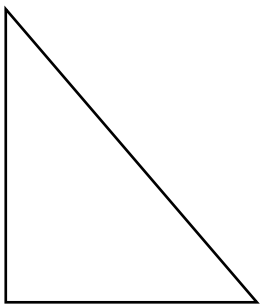


3




4

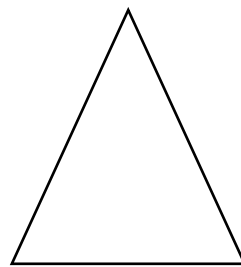
2. לאיזו צורה יש הכי הרבה קווי סימטריה? הקיפו את התשובה הנכונה.




1



2



3



4

