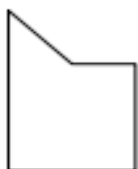
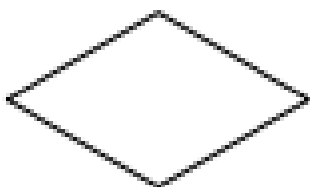


## משימת פירוק והרכבה

1. חלקו כל אחד מהמצולעים המשורטטים לשני מצולעים (היעזרו במודד).
2. אילו שתי צורות מרכיבות כל מצולע? הקיפו את כל התשובות המתאימות עבור כל שרטוט.



- א. מרובע ומשושה
- ב. משולש וריבוע
- ג. משולש ומשושה
- ד. מלבן ומרובע



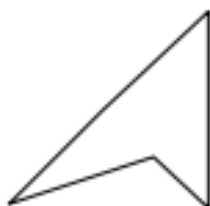
- א. משולש ומשולש
- ב. מרובע ומשולש
- ג. ריבוע ומחומש
- ד. מרובע ומרובע



- א. מחומש ומצולע עם 8 צלעות
- ב. מלבן ומצולע עם 7 צלעות
- ג. מרובע ומשושה
- ד. מלבן ומחומש



- א. מחומש ומשושה
- ב. ריבוע ומשושה
- ג. משולש ומחומש
- ד. משולש ומרובע



- א. מחומש ומשושה
- ב. משולש ומשולש
- ג. מלבן ומשושה
- ד. מחומש ומשולש