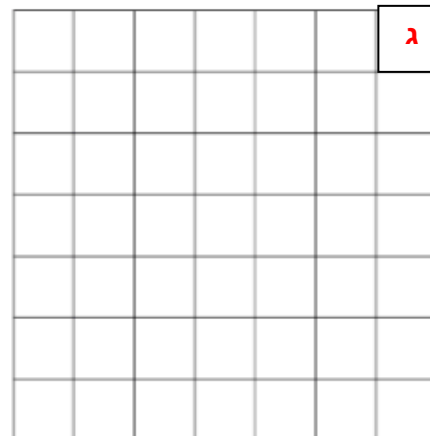

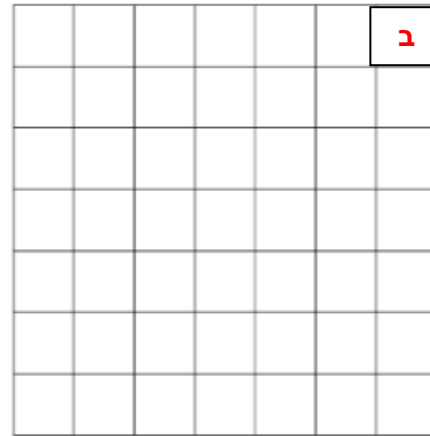
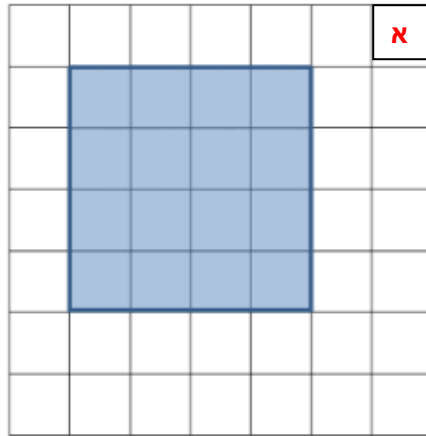


## משימת היקף

1. מהו היקף הריבוע המסומן? \_\_\_\_\_
2. שרטטו 3 מלבנים שונים, עם **היקף שונה** לגודל היקף הריבוע המסומן.



3. חשבו את השטח של כל אחד מארבעת המרובעים:

א \_\_\_\_\_  
ב \_\_\_\_\_  
ג \_\_\_\_\_  
ד \_\_\_\_\_

4. מה גיליתם על גודל השטח וגודל ההיקף? הסבירו.

- 
5. האם ניתן לשרטט מלבן עם היקף בגודל היקף הריבוע אבל בעל שטח גדול יותר משטח הריבוע? הסבירו.
-